



Φτάσαμε ως το 100!!!

1. Βοήθησε τον Ταζ να λύσει τις εξισώσεις:

$70+30= \dots\dots\dots$

$70-20= \dots\dots\dots$

$50\div 5= \dots\dots\dots$

$60+20= \dots\dots\dots$



$100-50= \dots\dots\dots$

$100\div 20= \dots\dots\dots$

$40+20= \dots\dots\dots$

$30-30= \dots\dots\dots$

$60\div 6= \dots\dots\dots$

$40+60= \dots\dots\dots$

$100-60= \dots\dots\dots$

$2\times 40= \dots\dots\dots$

$100+0= \dots\dots\dots$

$70-10= \dots\dots\dots$

$30\times 3= \dots\dots\dots$

$10+ 80= \dots\dots\dots$

$80-70= \dots\dots\dots$

$6\times 10= \dots\dots\dots$

$30+30= \dots\dots\dots$

$100-80= \dots\dots\dots$



$10\times 10= \dots\dots\dots$

$0+60= \dots\dots\dots$

$80-60= \dots\dots\dots$

$2\times 50= \dots\dots\dots$

$50+50= \dots\dots\dots$

$20-20= \dots\dots\dots$

$30\times 3= \dots\dots\dots$

$20+20= \dots\dots\dots$

$70- 0= \dots\dots\dots$

$50\times 0= \dots\dots\dots$

$10+40= \dots\dots\dots$

$90-30= \dots\dots\dots$

$6\times 10= \dots\dots\dots$

$20+80= \dots\dots\dots$

$40-20= \dots\dots\dots$

$100\times 1= \dots\dots\dots$

$80-0= \dots\dots\dots$

$80\div 2= \dots\dots\dots$

$2\times 40= \dots\dots\dots$

$90-20= \dots\dots\dots$

$50\div 50= \dots\dots\dots$

$1\times 90= \dots\dots\dots$

$90-90= \dots\dots\dots$

$30\div 10= \dots\dots\dots$

$3\times 20= \dots\dots\dots$

$40-10= \dots\dots\dots$

$40\div 1= \dots\dots\dots$

$4\times 10= \dots\dots\dots$

$70-50= \dots\dots\dots$



$60\div 20= \dots\dots\dots$

$0\times 40= \dots\dots\dots$

$60-30= \dots\dots\dots$

$90\div 3= \dots\dots\dots$

$6\times 10= \dots\dots\dots$



Όνοματεπώνυμο:..... Τάξη:.....

2. Μη μου πεις ότι κουράστηκες... Βρες τον αριθμό που λείπει:

$90 + \dots = 100$

$40 + \dots = 80$

$\dots + 30 = 90$

$20 + \dots = 70$

$\dots + 80 = 80$



$100 - \dots = 60$

$\dots - 20 = 50$

$90 - \dots = 40$

$\dots - 50 = 50$

$80 - \dots = 50$



3. Τώρα πρέπει να σκεφτείς και να βάλεις +, -, x, ÷ στα κουτάκια όπου ταιριάζει:

$90 \dots 10 = 9$

$80 \dots 20 = 100$

$50 \dots 30 = 80$

$90 \dots 9 = 10$

$70 \dots 20 = 50$

$60 \dots 60 = 0$



$2 \dots 50 = 100$


$1 \dots 10 = 10$

$30 \dots 2 = 60$

$40 \dots 40 = 1$

$50 \dots 40 = 90$

$70 \dots 0 = 0$



4. Γράψε ισότητες με τους αριθμούς 40, 30, 70:

$\square + \square = \square$

$\square - \square = \square$

$\square + \square = \square$

$\square - \square = \square$


























Πω πω!!! Μα εσύ είσαι
ξεφτέρι στα Μαθηματικά!
Και τώρα ώρα για
διερεύνηση!!!



Διερεΰνηση

↪ Η πιο κάτω γραφική παράσταση παρουσιάζει τα αγαπημένα βιβλία των παιδιών ενός σχολείου.

Παραμύθια									
Κόμικς									
Μυθιστορήματα									
Λογοτεχνικά									

Κάθε  αντιστοιχεί με 10 παιδιά.

Κάθε  αντιστοιχεί με 5 παιδιά.

(α) Να συμπληρώσεις των αριθμό των παιδιών που προτιμά το κάθε είδος βιβλίου.

Παραμύθια:



Κόμικς:

Μυθιστορήματα:


Λογοτεχνικά:

(β) Ποιο είδος βιβλίων προτιμούν τα περισσότερα παιδιά;

Απάντηση: _____



(γ) Ποιο είδος βιβλίων προτιμούν τα λιγότερα παιδιά;



Απάντηση: _____



(δ) Πόσα περισσότερα είναι τα παιδιά που προτιμούν τα κόμικς από τα παιδιά που προτιμούν τα παραμύθια;



Απάντηση: _____

(ε) Πόσα λιγότερα είναι τα παιδιά που προτιμούν τα μυθιστορήματα από τα παραμύθια;

Απάντηση: _____

Προβλήματα μόνο για
ξεφτέρια σαν και εσάς!!!



1) Ο Φοίβος έχει 100 αυτοκινητάκια. Τα μισά από αυτά έχουν

χρώμα μπλε. Τα υπόλοιπα είναι κόκκινα. Πόσα είναι τα κόκκινα και

πόσα τα μπλε αυτοκινητάκια;

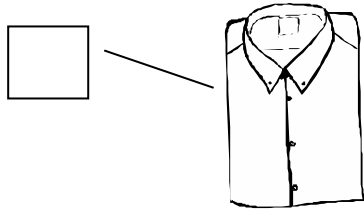


Μαθηματική Πρόταση:



Απάντηση:

2) Ο Γιάννης κρατούσε €60. Ξόδεψε τα μισά από τα χρήματά του, για ν' αγοράσει ένα πουκάμισο. Πόσα στοίχισε το πουκάμισο; Πόσα χρήματα του έμειναν;



Κρατώ €60.



Μαθηματική Πρόταση:

Απάντηση:

3) Ο Παναγιώτης έχει στο πορτοφόλι του 40 σεντ. Ο φίλος του ο Σπύρος έχει 50 σεντ. Πόσα σεντ έχουν και τα δύο παιδιά μαζί;

Μαθηματική Πρόταση:

Απάντηση:



4) Ο Συμεών έχει 30 βιβλία στη βιβλιοθήκη του. Ο Κωνσταντίνος έχει τα τριπλάσια βιβλία. Πόσα βιβλία έχει ο Κωνσταντίνος;

Μαθηματική Πρόταση:

Απάντηση:



5) Η Άννα, η Στέιση και η Βερόνικα έπαιζαν το διάλειμμα καλαθόσφαιρα.

Η Άννα πέτυχε 30 πόντους. Η Στέιση πέτυχε 40 πόντους



περισσότερους. Η Βερόνικα πέτυχε τους διπλάσιους πόντους από την

Άννα. Πόσα καλάθια πέτυχε το κάθε κορίτσι;

Άννα:.....

Στέιση:.....

Βερόνικα:.....



6) Ένα σκιουράκι είχε στη φωλιά του 80 φουντούκια. Έφαγε τα μισά

από αυτά. Πόσα φουντούκια έχουν μείνει στη φωλιά του;

Μαθηματική Πρόταση:

Απάντηση:



7) Ένα αυτοκινητάκι στοιχίζει 50 ευρώ. Ένα караβάκι στοιχίζει τα

διπλάσια χρήματα από το αυτοκινητάκι. Πόσα στοιχίζει το караβάκι;

Μαθηματική Πρόταση:

Απάντηση:

