



Μαθηματικά Β'



Όνομα: _____ Ημερομηνία: _____

1. Το κάθε παιδί θα πάρει τόσες μπάλες όσες και το άλλο.




- Πόσες είναι όλες οι μπάλες; _____
- Πόσες μπάλες θα πάρει το κάθε παιδί; _____
- Γράψε τις μαθηματικές προτάσεις της διαίρεσης και του πολλαπλασιασμού:

2. Βάλε τα μήλα σε καλάθια. Το κάθε καλάθι να έχει τόσα μήλα, όσα και το καθένα από τα άλλα.



- Πόσα είναι όλα τα μήλα; _____
- Πόσα μήλα έβαλες σε κάθε καλάθι; _____
- Γράψε τις μαθηματικές προτάσεις της διαίρεσης και του πολλαπλασιασμού:

3. Βάλε τα σκυλάκια σε τριάδες.



- Πόσες τριάδες έκανες; _____

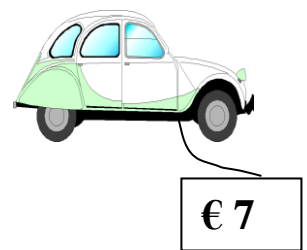
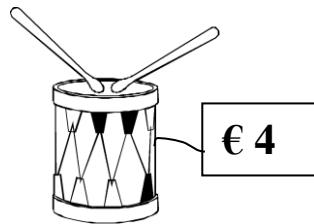
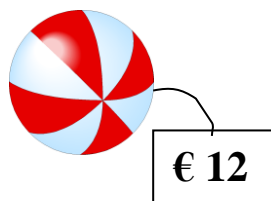

4. Ο Φοίβος έχει 12 στρατιωτάκια. Θέλει να τα βάλει σε σειρές. Βοήθησέ τον.



- Βάλε τα σε 2 σειρές: _____

- Βάλε τα σε 3 σειρές: _____

5. Στο κατάστημα παιχνιδιών.



- Η Ιωάννα αγόρασε ένα αρκουδάκι και ένα τύμπανο. Πόσα πλήρωσε;

Μαθ. πρόταση: _____ Απάντηση: _____

- Ο Κλεάνθης κρατούσε 19 ευρώ. Αγόρασε ένα αυτοκινητάκι. Πόσα του έμειναν;

Μαθ. πρόταση: _____ Απάντηση: _____