

Γεια σας παιδιά! ΧΡΙΣΤΟΣ ΑΝΕΣΤΗ! ΧΡΟΝΙΑ ΠΟΛΛΑ!

Εύχομαι να είστε όλοι και όλες καλά και να μένετε στο σπίτι ασφαλείς! ☺

Αυτή τη βδομάδα, συνεχίζουμε στη μελέτη του Καναδά. Μπορείτε να εργάζεστε σταδιακά (π.χ. αφιερώνω λίγο χρόνο, δύο φορές τη βδομάδα). Να χρησιμοποιήσετε το βιβλίο σας και τις πηγές που σας στέλνω, μόνο. Δεν χρειάζεται να κάνετε άλλη έρευνα για να απαντήσετε στα ερωτήματα.

\*Τα ερωτήματα στα κουτιά είναι ΜΟΝΟ για σας βοηθήσουν να αναλύσετε τις φωτογραφίες και τους χάρτες. Θα γράφετε μόνο όταν βλέπετε το σημάδακι με το μολυβάκι.



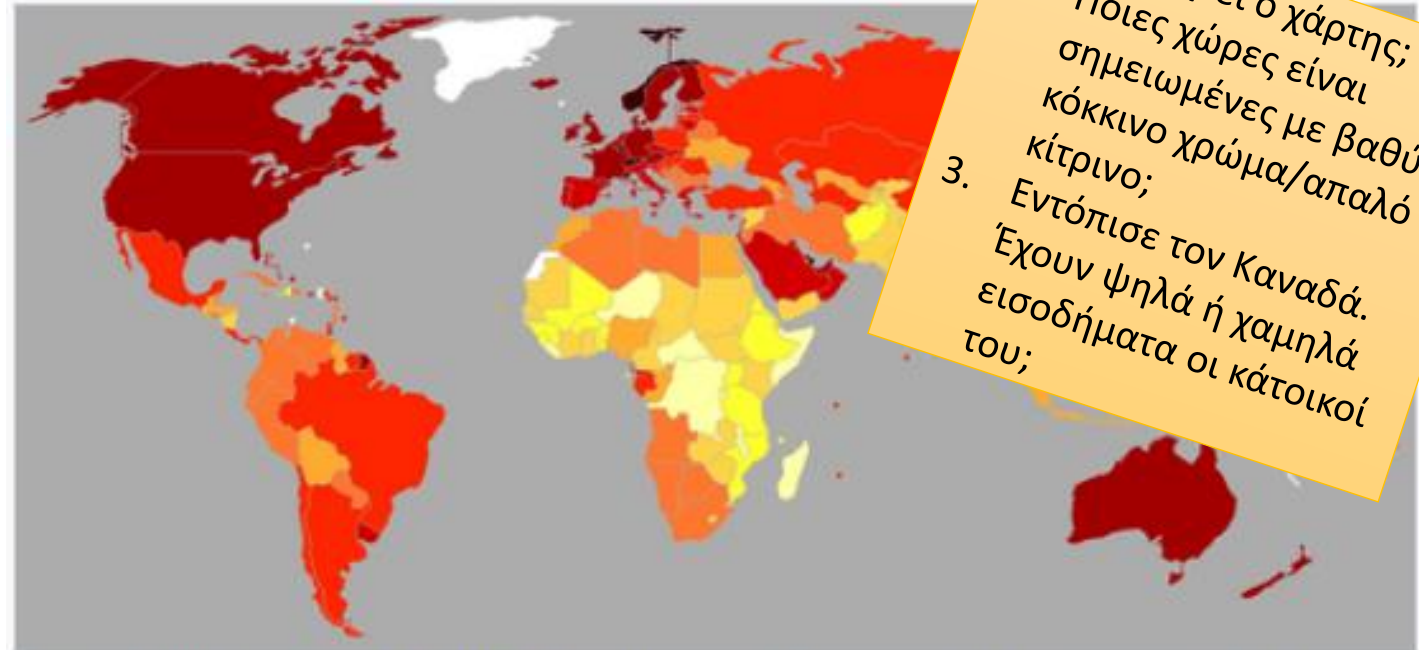
# Καναδάς

## Μέρος Α

# A. Οικονομική ανάπτυξη

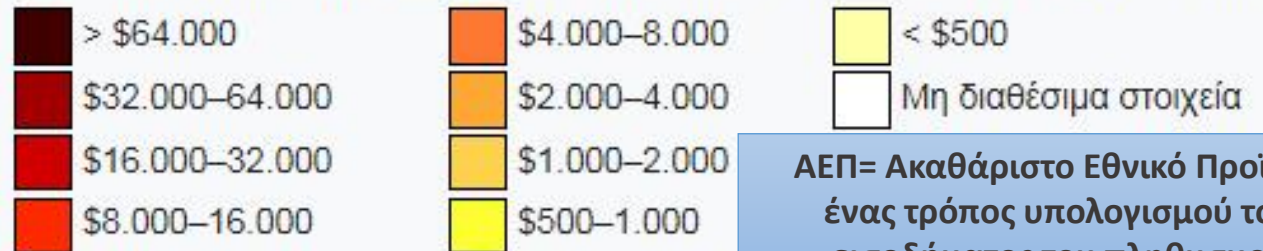
➤ Μελετώ τον χάρτη και τις ακόλουθες φωτογραφίες και κάνω υποθέσεις: «Είναι άραγε ο Καναδάς μια οικονομικά ανεπτυγμένη χώρα;»

1. Τι βλέπεις;
2. Τι είναι;
3. Τι πληροφορίες παίρνεις για τις πόλεις του Καναδά;



1. Τι δείχνει ο χάρτης;
2. Ποιες χώρες είναι σημειωμένες με βαθύ κόκκινο χρώμα/απαλό κίτρινο;
3. Εντόπισε τον Καναδά. Έχουν ψηλά ή χαμηλά εισοδήματα οι κάτοικοί του;

Χώρες κατά ονομαστικό ΑΕΠ κατά κεφαλήν το 2015, σύμφωνα με στοιχεία του ΔΝΤ.



ΑΕΠ= Ακαθάριστο Εθνικό Προϊόν= ένας τρόπος υπολογισμού του εισοδήματος του πληθυσμού

- Εκφράζω την άποψή μου: «Είναι άραγε ο Καναδάς μια οικονομικά ανεπτυγμένη χώρα;»



Νομίζω  
Η άποψή μου  
Η γνώμη μου

είναι ότι ο Καναδάς είναι/δεν είναι .....  
επειδή .....  
.....

## Γεωγραφική διερεύνηση

Ο Καναδάς είναι μια από τις πιο πλούσιες χώρες του κόσμου. Σε ποιους λόγους οφείλεται η μεγάλη οικονομική ανάπτυξη της χώρας;

- ❖ Καθώς προχωρείς στις επόμενες διαφάνειες, θα συλλέγεις στοιχεία που θα σε βοηθήσουν να απαντήσεις το γεωγραφικό ερώτημα. Να κρατάς σημειώσεις στο χαρτί σου ή ηλεκτρονικά, όπου βλέπεις το σημαδάκι



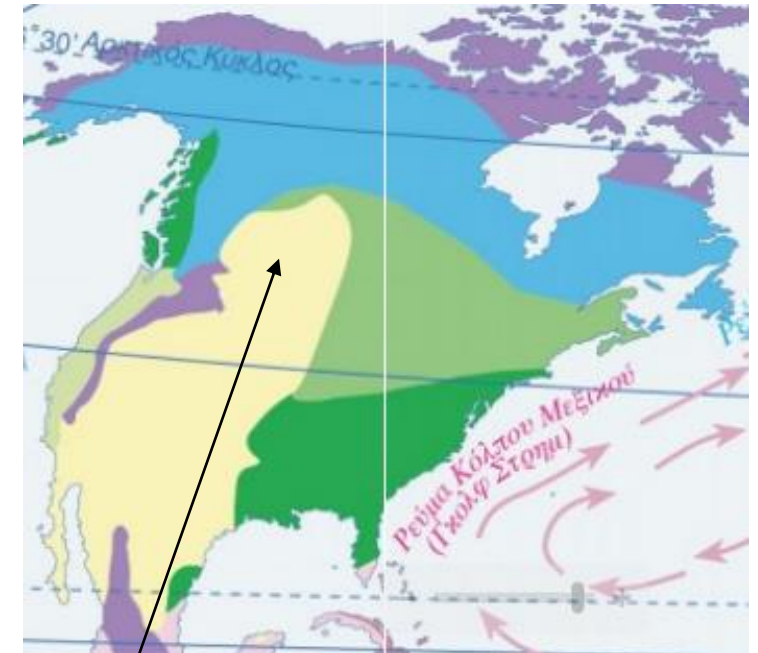
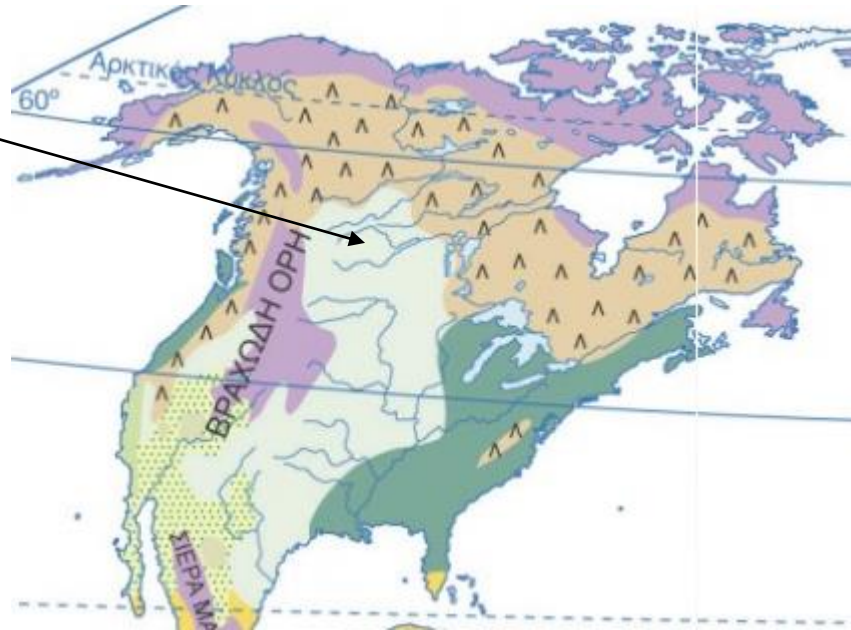
# Α. Γεωργία-Κτηνοτροφία-Αλιεία-Υλοτομία

- Μελετώ τα αποσπάσματα των χαρτών και παρατηρώ σε ποια περιοχή του Καναδά βρίσκονται τα πρέρι (prairies, εύκρατα λιβάδια) και τι κλίμα επικρατεί στην περιοχή αυτή.

Εύκρατα Λιβάδια



Αποτελούνται από ένα πλούσιο μείγμα χορταριού και πλατύφυλλων δέντρων, στα πιο εύφορα εδάφη του κόσμου (πολλά έχουν μετατραπεί σε γεωργικά εδάφη). Τα γόνιμα αυτά εδάφη βρίσκονται κυρίως στις ανατολικές πεδιάδες των Η.Π.Α., στη Ν. Αμερική (Πάμπας), στην Ουκρανία και Ρωσία.



## ΞΗΡΑ ΚΛΙΜΑΤΑ


Κλίμα στέπας & ερημικό  
(ψηλές θερμοκρασίες,  
λίγες ή καθόλου βροχές)

❖ Συγκρίνω με την πατρίδα μου: Τι καλλιεργείται σε πεδινές περιοχές χωρίς πολλή βροχόπτωση;



Μεσαορία

- Παρατηρώ τις φωτογραφίες εδώ, το κείμενο και τη γραφική παράσταση στη σελ. 90 του βιβλίου «Γνωρίζω τον κόσμο» και γράφω τον πρώτο λόγο για τον οποίο ο Καναδάς είναι οικονομικά ανεπτυγμένος.



Οι τεράστιες εκτάσεις των καναδικών λιβαδιών αποτελούν τον σιτοβολώνα του Καναδά. Το σιτάρι είναι το σημαντικότερο γεωργικό προϊόν της χώρας. Ο Καναδάς είναι η πρώτη χώρα στον κόσμο στην εξαγωγή σιταριού. Περισσότερη από τη μισή εξάγεται και φέρνει πολλά εισοδήματα στη χώρα.



1. Πώς είναι το έδαφος; (Πεδινό ή Ορεινό)
2. Πώς είναι τα λιβάδια στον Καναδά; (μέγεθος)
3. Τι φαίνεται να καλλιεργούν εδώ; (έννοια: σιτηρά)
4. Πώς καταφέρνουν να θερίζουν πιο εύκολα/γρήγορα;



Ο Καναδάς είναι οικονομικά ανεπτυγμένος επειδή .....